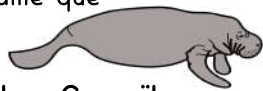


COMBIEN MESURE UNE BALEINE ?



Une baleine fait la même taille que **2** orques.

Une baleine fait la même taille que



..... lamantins des Caraïbes.

Une baleine fait la même taille que



..... thons jaunes.

Une baleine fait la même taille que



..... tortues luth.

Une baleine fait la même taille que



..... loutres de mer.

Une baleine fait la même taille que



..... grands requins blancs.

Une baleine fait la même taille que




..... méduse-boîtes.

Une baleine fait la même taille que




..... otaries de Californie.

Une baleine fait la même taille que



..... grands dauphins.

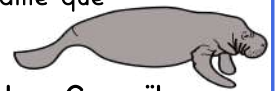


COMBIEN MESURE UNE BALEINE ?



Une baleine fait la même taille que **2** orques.

Une baleine fait la même taille que



..... lamantins des Caraïbes.

Une baleine fait la même taille que



..... thons jaunes.

Une baleine fait la même taille que



..... tortues luth.

Une baleine fait la même taille que



..... loutres de mer.

Une baleine fait la même taille que



..... grands requins blancs.

Une baleine fait la même taille que



..... méduse-boîtes.

Une baleine fait la même taille que



..... otaries de Californie.

Une baleine fait la même taille que



..... grands dauphins.